



UZUPEŁNIA ZESPÓŁ NADZORUJĄCY

KOD UCZNIĄ

--	--	--

PESEL

--	--	--	--	--	--	--	--	--	--	--	--

miejsce
na naklejkę
z kodem

SPRAWDZIAN W KLASIE SZÓSTEJ SZKOŁY PODSTAWOWEJ

KWIECIEŃ 2012

Informacje dla ucznia

1. Sprawdź, czy zestaw egzaminacyjny zawiera 10 stron.
Jeśli brakuje stron, zgłoś to nauczycielowi.
2. Sprawdzenie składa się z 27 zadań.
3. Czytaj uważnie wszystkie zadania.
4. Do niektórych zadań podane są odpowiedzi:
A. B. C.
lub
TAK NIE
Tylko jedna z nich jest poprawna. Wybierz ją i wpisz znak X w okienko , na przykład: .
5. Gdy się pomylisz, otocz błąd kółkiem w taki sposób: i zaznacz poprawną odpowiedź: .
6. Pozostałe zadania wykonaj bezpośrednio pod poleceniami. Pomyłki przekreślaj.
7. Jeśli nie potrafisz rozwiązać któregoś zadania, przejdź do następnego. Do opuszczonego wrócisz, jeśli będziesz mieć czas.
8. Na ostatniej stronie znajduje się brudnopis, z którego możesz skorzystać. To, co w nim napiszesz, nie będzie sprawdzane.

Powodzenia!

Czas pracy:
60 minut
(można przedłużyć – nie więcej niż o 30 minut)

**Liczba punktów
do uzyskania: 40**

S-8-122



Przeczytaj tekst i rozwiąż zadania: 1., 2. i 3.

Chłopiec wszystko uważnie obserwował. Co rano przywozili go do ogrodu i, o ile nie padało, spędzał w nim całe dni. Nawet te pochmurne. Mówił, że lubi leżeć na trawie i przyglądać się, jak wszystko wokół rośnie. Dodawał, że jeśli się umie patrzeć, to dostrzec można, jak się pączki rozwijają. Godzinami podglądał świat pracowitych owadów, biegających tu i tam po różnych nieznanach ścieżkach, noszących często małe źdźbła trawy, pierza lub pożywienia. Podpatrywał krety, żaby, poznawał zwyczaje ptaków. Ale najbardziej lubił, gdy kolega opowiadał mu o życiu i obyczajach lisów, zajęcy, wiewiórek i borsuków – wówczas nie było końca tematów do rozmów.

Zadanie 1.

Zaznacz poprawną odpowiedź.

Chłopca przywożono do ogrodu

- A. dwa razy w tygodniu.
- B. co niedzielę.
- C. codziennie.

Zadanie 2.

Zaznacz poprawną odpowiedź.

W ogrodzie chłopiec

- A. podlewał kwiaty.
- B. dokarmiał zwierzęta.
- C. obserwował przyrodę.

Zadanie 3.

Zaznacz poprawną odpowiedź.

Który sposób poznawania obyczajów zwierząt był dla chłopca najciekawszy?

- A. Podpatrywanie zachowania zwierząt.
- B. Rozmawianie z kolegą o zwierzętach.
- C. Wsłuchiwanie się w odgłosy zwierząt.

Zadanie 4.

Zaznacz poprawną odpowiedź.

Żeby móc „dostrzec, jak się pączki rozwijają” potrzebna jest

- A. cierpliwość.
- B. przezorność.
- C. delikatność.

Zadanie 5.

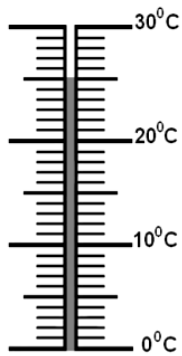
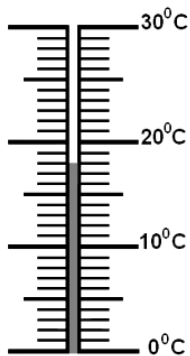
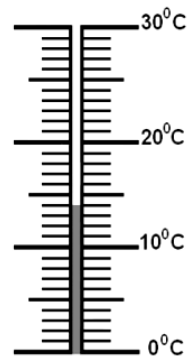
Zaznacz poprawną odpowiedź.

Wypowiedź „nie było końca tematów do rozmów” oznacza, że chłopcy

- A. nie lubili ze sobą rozmawiać.
- B. chętnie rozmawiali ze sobą.
- C. milczeli podczas spotkań.

Zadanie 14.**Zaznacz poprawną odpowiedź.**

Który termometr wskazuje temperaturę, w jakiej zaczynają kiełkować ogórki?

A. B. C. **Zapoznaj się z informacjami zamieszczonymi w tabeli. Rozwiąż zadanie 15. i 16.**

Miesiąc	Kwiecień	Maj	Czerwiec	Lipiec	Sierpień	Wrzesień
Siew						
Zbiór						

Zadanie 15.**Zaznacz poprawną odpowiedź.**

Ogórki należy siać

- A. w kwietniu.
 B. w maju i czerwcu.
 C. od lipca do września.

Zadanie 16.**Zaznacz TAK, jeśli zdanie jest prawdziwe, a NIE, jeśli zdanie jest fałszywe.**

Okres zbioru ogórków trwa krócej od okresu, kiedy można je siać.

TAK NIE **Zadanie 17.**Ogrodnik wysiał nasiona ogórków na $\frac{1}{4}$ powierzchni grządki.**Zaznacz poprawną odpowiedź.**

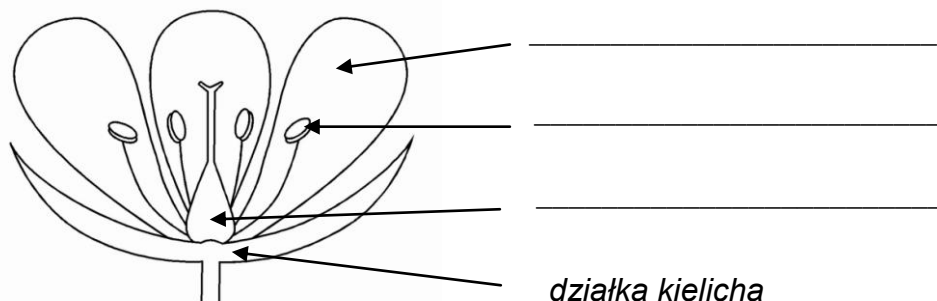
Aby ogórki rosły na całej grządce, ogrodnik musi obsiać jeszcze

- A. $\frac{1}{4}$ jej powierzchni. B. $\frac{1}{2}$ jej powierzchni. C. $\frac{3}{4}$ jej powierzchni.

Zadanie 18.

Opisz schemat przedstawiający budowę kwiatu nazwami elementów podanymi w ramce.

słupek, płatek korony, pręcik



Przeczytaj wiersz i rozwiąż zadania: 19., 20. i 21.

W naszym ogródeczku

W naszym ogródeczku
zrobimy porządki –
zagrabimy ścieżki,
przekopimy grządki.

Na grządkach wyrosnie
fasolka, marchewka,
sałata i groszek,
czerwona rzodkiewka.

W naszym ogródeczku
posiejemy kwiatki –
będą nam pachniały
fiołki i bratki,
nasturcje, goździki,
nagietki i groszek,
i ta biała lilia,
co tak żółci nosek.

Hanna Zdzitowiecka

Zadanie 19.

Zaznacz poprawną odpowiedź.

W której zwrotce znajdziesz informacje o tym, jakie warzywa będą rosły w ogródku?

A. W pierwszej.

B. W drugiej.

C. W trzeciej.

Zadanie 20.

Zaznacz poprawną odpowiedź.

Jaki kolor ma kwiat, który barwi nos?

A. Czerwony.

B. Żółty.

C. Biały.

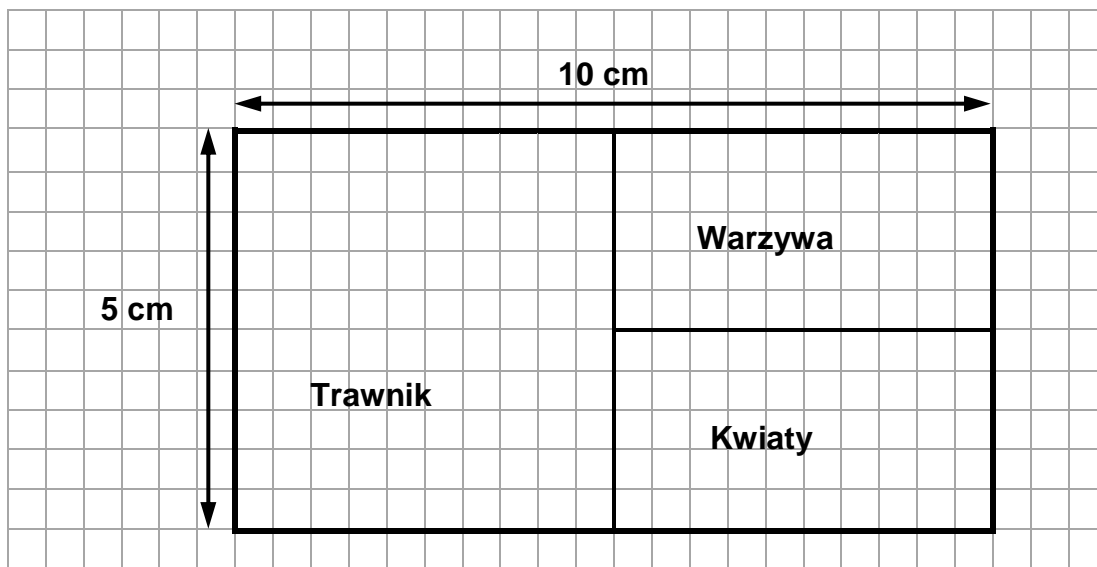
Zadanie 21.

W poniższej zwrotce podkreśl wers, w którym jest epitet.

W naszym ogródeczku
zrobimy porządki –
zagrabimy ścieżki,
przekopimy grządki.

Przyjrzyj się rysunkowi, na którym przedstawiono plan ogrodu.

Rozwiąż zadanie 22., 23. i 24.



Zadanie 22.

1 cm na planie to 10 m w rzeczywistości.

Zaznacz poprawną odpowiedź.

Jakie są rzeczywiste wymiary trawnika?

A. 5 m x 5 m

B. 50 m x 50 m

C. 50 m x 100 m

Zadanie 23.

Zaznacz poprawną odpowiedź.

Ile razy większa jest powierzchnia przeznaczona na trawnik od powierzchni, którą zajmują kwiaty?

A. Dwa razy.

B. Trzy razy.

C. Cztery razy.

Zadanie 24.

Dokończ zdanie.

Część ogrodu, na której rosną warzywa ma kształt _____.

Zadanie 25.

Napisz pełnym zdaniem odpowiedź na pytanie.

Dlaczego należy jeść warzywa?

Zadanie 26.

Zaznacz poprawną odpowiedź.

Mycie warzyw przed jedzeniem zapobiega

- A. niedoborowi witamin w organizmie.
- B. chorobom układu pokarmowego.
- C. nadwadze i otyłości.

Zadanie 27.

Zaznacz poprawną odpowiedź.

Który produkt, zjadany często i w dużych ilościach, sprzyja powstaniu nadwagi?

- A. Ogórek.
- B. Jogurt.
- C. Chipsy.

Brudnopis

